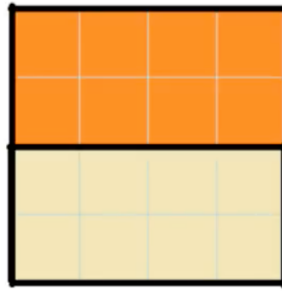
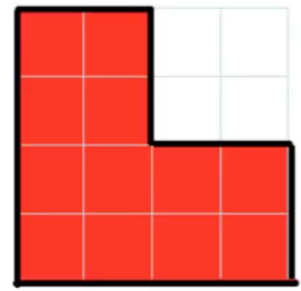


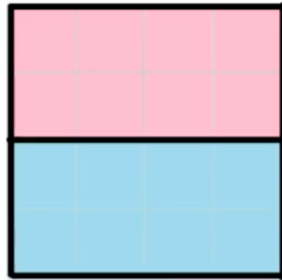
Dada la planta, alzado y perfil izquierdo de la siguiente pieza, dibuja su perspectiva caballera, sabiendo que cada cuadrado de la cuadrícula mide 2 cm. Utiliza para el eje Y una reducción de 1/2.



ALZADO



PERFIL IZQUIERDO



PLANTA

